

٩- يجد الأردن من الشمال :

سوريا العراق السعودية فلسطين

١٠- حدث وقع عام ١٩٦٨ هو :

معركة الكرامة تحرير الجيش استقلال الأردن غير ذلك

١١- المضاد القوي لكلمة (بالغ) :

أحسن أكثر يادر أقل

١٢- كم عدد المثلثات في الشكل



١٤ ١٦ ١٨ ٢٠

١٣- اكتب العدد المناسب في المربع للخط السفلي

١٢ ٦ ٧ ٨
٨ = ٥٦
٧ = ٤٢
٦ = ٣٠
٥ = ٢٠
٣ = □

١٤- عند تحويل المادة الغازية إلى مادة سائلة تسمى :

تصلب تكاثف تجمد تبخر

١٥- أحمد أعطى أمية (٦) آلاف دينار وأبقت معه (٧) آلاف دينار واسترى بالعقيد دينار جهاز كهربائي ، كم كان مع أحمد من النقود :

(١٤) ألف (٨) آلاف (١٢) ألف (٤) آلاف

١٦- الرقم الذي يكمل النمط التالي [١ ، ٥ ، ١٣ ، ٢٩ ، □] هو :
٦٠ ٦١ ٥٣ ٦٢

صفحة (٢)

٢٧- تقابل ٦ أشخاص في مكان ما ، إذا صافح كل شخص منهم الآخر مرة واحدة فقط فكم عدد المصافحات التي وقعت :

١٥ ٣٠ ٢١ ١٨

٢٨- يقضي محمد أربع يومه في الدراسة وثلاث يومه في النوم ، فما الكسر الذي يعبر عنه الوقت الذي يقضيه في الأعمال الأخرى ؟

$\frac{3}{11}$ $\frac{4}{11}$ $\frac{5}{11}$ $\frac{7}{11}$

٢٩- واحدة من الآتيه فقط تعلق بواسطة الكهرمان :

الكوب الشرائي الدراجة النارية مروحة السقف المحرك البخاري

٣٠- تدور الأرض مرة واحدة حول عام حول :

المريخ الشمس القمر باطن الكواكب

٣١- معدل دوران الأرض حول محورها :

مرة كل ١٢ ساعة مرة كل ٢٤ ساعة مرة كل شهر مرة كل عام

٣٢- الكوكب الأقرب للشمس هو :

الأرض بلخ عطارد زحل

٣٣- ما الذي يحدث للماء عندما يغلي :

يتغير لونه يزداد وزنه يتحول إلى بخار ماء يتوقف عن تكبيره لفقاعات

٣٤- أي الحالات التالية تحتاج إلى وجود الحرارة لحدوث :

الغليان فقط الانصهار فقط الانصهار والتجمد الانصهار والغليان

٣٥- أي مما يلي يكونان معاً قوس قزح :

الضباب والسحب المطر والثلج السحب والثلج ضوء الشمس والمطر

صفحة (٤)

٣٦- يدخل الذكصين إلى داخل الجسم عند طهرتين :

الأعضاء الذموية الأعضاء القارضة المعدة الأشياء مرادكم

٣٧- التهمة المحرطة التي تؤول على البالون بعد دلائل الصوت :

عويمة متعادلة سالبة لا شيء مما ذكر

٣٨- استعملت سلمون المكنى في البيت ، مما هو نوع الطاقة الذي ينتج :

خنوشية حرارية كهربائية لاشعري مما ذكر

٣٩- الكلمة التي يجب أن تكون فيها العنزة هجرة وحمل من الكلمات التالية هي :

ابن اخذ ابراهيم افوان

٤٠- اسم الفاعل من الفعل [دعما] هو :

صدوق مدعي داعي داعج

٤١- ملأوه الترفيم المناسبة في الفراغ [المدد بأهمزة] فله رسالة :

١ ؟ :

٤٢- كلمة [لانم] في قولنا : لانم بين شخصين وصافيات محتمل هي :

اسم ماعل فعل أمر اسم مفعول فعل مضارع

٤٣- يعمد الفعل المضارع المشد في بناء :

بالفتحة المعبرة بالفتحة الظاهرة بالألف بالياء

٤٤- ماذا يسمى اتفات الكلمات في النطق واختلفا في المعنى

حنائية استعارة جناس طباق

٤٥- ما الكلمة التي كتبت خطأ :

كؤوس تواءل مؤلم جيتقم

مرفعة (٥)

٧٣- أي من الآتية يعد من وظائف الدم :

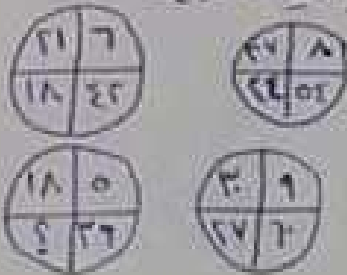
حمل الأكسجين إلى الفم
إفراز الدموع خارج الجسم
نقل المواد الغذائية إلى خلايا الجسم

التخلص من الفضلات المذيبات الخارطة

٧٤- معادل كلمة [أبا] :

أبناؤه
سبح
منع
لا حظ

٧٥- لا ينظر الشكل المجاور وعد العدد المناسب في الفراغ :




١٥
٣٦
١٨
٢٢

٧٦- أي الكلمات الآتية هي مرادف كلمة [سطا] :

كسب
سرق
شق
مرق

٧٧- مساحة الشكل المجاور



١٨
٣٦
١٢
٦

٧٨- واحدة من الأسماء الآتية ليست عامية عربية :

بيروت
الجزائر
برلين
تونس

صفحة (٩)

٧٩- تسمى مدة المائة عام :

جمل عقد قرون ألفية

٨٠- أحد الأقسام الأربعة مبسط بأبسط صورة :

$\frac{1}{11}$ $\frac{2}{4}$ $\frac{3}{5}$ $\frac{4}{8}$

٨١- يوجد في ٦ أيام ساعة :

١٤٠ ٣٣١ ٢٤ ١٥

٨٢- الزئبق هو صوته :

الأسد الثعبان القرد الجمل

٨٣- الرقم المناسب في الفراغ :



٤٢ ٤٦ ٥١ ٥٥

٨٤- واحدة من الألفية تكتب بشكل سليم :

مؤازرة وهاي مناسي سمال

٨٥- نبي تحرف بصدره على المرضى :

موسى عيسى نوح أيوب

٨٦- أنشد كتاب الإنجيل على سيدونا :

عيسى موسى محمد داود

صفحة (١٠)

٨٧- وقعت غزوة بدر سنة :

٥٢ ٥٣ ٥٤ ٥٥

٨٨- توفي الرسول صلى الله عليه وسلم :

٥٦ ٥١١ ٥١٢ ٥١٣

٨٩- أشهر سورة في القرآن الكريم هي سورة :

الأنعام الكوثر الناس الفلق

٩٠- لقب بذات الطهاتين هي :

عائشة بنت أبي بكر أسماء بنت أبي بكر خديجة بنت خويلد
ماريا القبطية

٩١- الخطوة التي تأتي [الاستنشاق ثلاث مرات] في الوضوء هي :

المضمضة ثلاث مرات غسل الوجه ثلاث مرات غسل اليدين ثلاث مرات
مسح الرأس مرة واحدة

٩٢- أحد الحيوانات التي يعتبر حيواناً برياً :

النمل القمل الأرنب القمل

٩٣- الخيار المناسب لتكملة السلسلة الغذائية أسد → ثعلب → أرنب → □

نار قمل حمار كلب

٩٤- العنصر الذي يرمز له الرمز [Ca] هو :

القصدير الكربون الفسفور الكالسيوم

١٠٣- حيوان يلعب بسفينة الممرار هو :

التمسان الجمل الغيل البقرة

١٠٤- تقاس سرعة القطار بـ :

سم/ساعة سم/دقيقة م/دقيقة لاشيئانها ذكر

١٠٥- أحد الزفان اللينة هو فعل ثلاثي :

رأى استخرج انتقل قابل

١٠٦- سورة في القرآن تعرف [بجروس القرآن] هي :

التوبة الملل الحلقة الرجعت

١٠٧- يكتب الرقم [ثلاثة مليون ومئة ومشرون الف وستة عشر] :

٣١٥١٦ ٣١٥٠٠٦١ ٣١٥٠٠١٦ ٣١٠٥٠١٦

١٠٨- عدد خطوط التقاط للمستطيل :

٢ ٤ ٦ ١

١٠٩- ضيق زوايا قائمة وجميع اضلاعه متساوية :

مربع مستطيل متوازي اضلاع معين

١١٠- فني من عجراته إحياء الموتى :

عيسى موسى داود محمد

١١١- الحرف الذي يلي حرف اللام في الحروف الهجائية هو :

ك ق م ن

صفحة (١٣)

لقد ولدت في السويد عام ١٩٩٩ في مدينة أوبسالا، حيث نشأت في عائلة مسيحية.

مستطاعا الإبقاء والاعتماد على التوجهات الواردة في وثائقها، إضافة إلى أن دورها في التنمية الاقتصادية والاجتماعية

عمره ٤٠ عاماً، من مواليد ١٩٨٢ في القاهرة، حصل على البكالوريوس في الهندسة المدنية من جامعة القاهرة عام ٢٠٠٣، ثم الماجستير في الهندسة المدنية من نفس الجامعة عام ٢٠٠٦، ثم الدكتوراه في الهندسة المدنية من نفس الجامعة عام ٢٠١٠.

الأشياء التي قد تكونت من مادة واحدة

تقریباً ۱۱۹ سال بعد از میلاد مسیح در حدود سال ۱۲۰۰ و ۱۲۰۱ میلادی در منطقه دریا

[illegible]

تأليف: د. محمد عبد الحليم عبد الله

can't find a way to do it. I'm not sure if I can do it.

خواجه ابو طالب ازواج بنامه ای از ادوار عشقین ای ظهور حسنه ای غنا و رفاه در ای

١٠٠

١٠١

١٠٢

١٠٣

١٠٤

١٠٥

١٠٦

١٠٧

١٠٨

١٠٩

١١٠

١١١

١١٢

١١٣

١١٤

١١٥

١١٦

١١٧

١١٨

١١٩

١٢٠

١٢١

١٢٢

١٢٣

١٢٤

١٢٥

١٢٦

١٢٧

١٢٨

١٢٩

١٣٠

١٣١

١٣٢

١٣٣

١٣٤

١٣٥

١٣٦

١٣٧

١٣٨

١٣٩

١٤٠

١٤١

١٤٢

١٤٣

١٤٤

١٤٥

١٤٦

١٤٧

١٤٨

١٤٩

١٥٠

١٥١

١٥٢

١٥٣

١٥٤

١٥٥

١٥٦

١٥٧

١٥٨

١٥٩

١٦٠

١٦١

١٦٢

١٦٣

١٦٤

١٦٥

١٦٦

١٦٧

١٦٨

١٦٩

١٧٠

١٧١

١٧٢

١٧٣

١٧٤

١٧٥

١٧٦

١٧٧

١٧٨

١٧٩

١٨٠

١٨١

١٨٢

١٨٣

١٨٤

١٨٥

١٨٦

١٨٧

١٨٨

١٨٩

١٩٠

١٩١

١٩٢

١٩٣

١٩٤

١٩٥

١٩٦

١٩٧

١٩٨

١٩٩

٢٠٠

٢٠١

٢٠٢

٢٠٣

٢٠٤

٢٠٥

٢٠٦

٢٠٧

٢٠٨

٢٠٩

٢١٠

٢١١

٢١٢

٢١٣

٢١٤

٢١٥

٢١٦

٢١٧

٢١٨

٢١٩

٢٢٠

٢٢١

٢٢٢

٢٢٣

٢٢٤

٢٢٥

٢٢٦

٢٢٧

٢٢٨

٢٢٩

٢٣٠

٢٣١

٢٣٢

٢٣٣

٢٣٤

٢٣٥

٢٣٦

٢٣٧

٢٣٨

٢٣٩

٢٤٠

٢٤١

٢٤٢

٢٤٣

٢٤٤

٢٤٥

٢٤٦

٢٤٧

٢٤٨

٢٤٩

٢٥٠

٢٥١

٢٥٢

٢٥٣

٢٥٤

٢٥٥

٢٥٦

٢٥٧

٢٥٨

٢٥٩

٢٦٠

٢٦١

٢٦٢

٢٦٣

٢٦٤

٢٦٥

٢٦٦

٢٦٧

٢٦٨

٢٦٩

٢٧٠

٢٧١

٢٧٢

٢٧٣

٢٧٤

٢٧٥

٢٧٦

٢٧٧

٢٧٨

٢٧٩

٢٨٠

٢٨١

٢٨٢

٢٨٣

٢٨٤

٢٨٥

٢٨٦

٢٨٧

٢٨٨

٢٨٩

٢٩٠

٢٩١

٢٩٢

٢٩٣

٢٩٤

٢٩٥

٢٩٦

٢٩٧

٢٩٨

٢٩٩

٣٠٠

٣٠١

٣٠٢

٣٠٣

٣٠٤

٣٠٥

٣٠٦

٣٠٧

٣٠٨

٣٠٩

٣١٠

٣١١

٣١٢

٣١٣

٣١٤

٣١٥

٣١٦

٣١٧

٣١٨

٣١٩

٣٢٠

٣٢١

٣٢٢

٣٢٣

٣٢٤

٣٢٥

٣٢٦

٣٢٧

٣٢٨

٣٢٩

٣٣٠

٣٣١

٣٣٢

٣٣٣

٣٣٤

٣٣٥

٣٣٦

٣٣٧

٣٣٨

٣٣٩

٣٤٠

٣٤١

٣٤٢

٣٤٣

٣٤٤

٣٤٥

٣٤٦

٣٤٧

٣٤٨

٣٤٩

٣٥٠

٣٥١

٣٥٢

٣٥٣

٣٥٤

٣٥٥

٣٥٦

٣٥٧

٣٥٨

٣٥٩

٣٦٠

٣٦١

٣٦٢

٣٦٣

٣٦٤

٣٦٥

٣٦٦

٣٦٧

٣٦٨

٣٦٩

٣٧٠

٣٧١

٣٧٢

٣٧٣

٣٧٤

٣٧٥

٣٧٦

٣٧٧

٣٧٨

٣٧٩

٣٨٠

٣٨١

٣٨٢

٣٨٣

٣٨٤

٣٨٥

٣٨٦

٣٨٧

٣٨٨

٣٨٩

٣٩٠

٣٩١

٣٩٢

٣٩٣

٣٩٤

٣٩٥

٣٩٦

٣٩٧

٣٩٨

٣٩٩

٤٠٠

٤٠١

٤٠٢

٤٠٣

٤٠٤

٤٠٥

٤٠٦

٤٠٧

٤٠٨

٤٠٩

٤١٠

٤١١

٤١٢

٤١٣

٤١٤

٤١٥

٤١٦

٤١٧

٤١٨

٤١٩

٤٢٠

٤٢١

٤٢٢

٤٢٣

٤٢٤

٤٢٥

٤٢٦

٤٢٧

٤٢٨

٤٢٩

٤٣٠

٤٣١

٤٣٢

٤٣٣

٤٣٤

٤٣٥

٤٣٦

٤٣٧

٤٣٨

٤٣٩

٤٤٠

٤٤١

٤٤٢

٤٤٣

٤٤٤

٤٤٥

٤٤٦

٤٤٧

٤٤٨

٤٤٩

٤٥٠

٤٥١

٤٥٢

٤٥٣

٤٥٤

٤٥٥

٤٥٦

٤٥٧

٤٥٨

٤٥٩

٤٦٠

٤٦١

٤٦٢

٤٦٣

٤٦٤

٤٦٥

٤٦٦

٤٦٧

٤٦٨

٤٦٩

٤٧٠

٤٧١

٤

لقد هجر مكة الرسول ﷺ خالداً في الولد العظيم الذي لم يبق منه النور من شيء من صفاته
فما الرسول عند ما توفي ﷺ عام 632 م هذه الصفات عند فرادة هجرته عن الزاوية التي كان فيها
منه في الخلقة فيه بعد وفاة الرسول ﷺ أي بين الصديقين هذه التغيرات في الركعة الأولى في
هجرة الحب ﷺ بخبر أن مقابل كلمة أبا ج ﷺ مع في أي عام هجرة بدر ﷺ هـ
ثبتت بعد ذلك في السنة التي بقيت من هجرة أمية المولى ﷺ حيث عليه السلام
سورة مثل القرآن الكريم تعرف (مروءة القرآن) ﷺ الرمان أمر غزوة شاركة بها الرسول ﷺ
تبوله معروفة محمد ﷺ القرآن بجزء عيسى ﷺ أهل البيت ﷺ حجة موصي
العلماء والبلد النبوية وظنفة جبريل ﷺ موعظ بالوحى وكيفية تلك ﷺ الموعظ بالشار
وخليفة لهما في الموكب بالكتابة

نبولاً. قلعة تسمى القلعة العربية في قلعة عجلون

دلالة نونا ارفع الأردني

الأحمر : الثورة العربية الكبرى


الأسود : يمثل الدولة الأموية

الأسود : راف الدولة العربية

الأحمر : يدل على الدولة الفاطمية

التيمة : يدل على سورة الفاتحة آية (٧)

ارسمي علم المملكة الأردنية الهاشمية



ما هي ألوان المملكة الأردنية الهاشمية؟ أحمر، أسود، أبيض، أخضر.

التدوير لأقرب إلى الشمس هو في نظام يدور الأكسجين عن طريق كتم

من الجزيئات لعنصر البندروجين C N فالجزيء لعدم تفرق في قضايلتج في الليومون.

العنصر ^{الذي لا يقطر} ~~الذي لا يقطر~~ هو ~~الأكسجين~~ ^{الأكسجين} يدور الأكسجين عن طريق كتم

من وظائف الدم في الهواء الباردة الهواء العنصر الذي يبرر له C هو في البندروجين

حيوان يلعب بصفة العنصر هو في الجمل تغلب سرعة القطار في كم / الساعة.

المتحدة الأمريكية التي تحول على البالون بعد ذلك بالصور في ساحة لها هو الذي يكون مع بعض

يكون معاً مؤخر فترج في مؤخر الشمس والقطر. من الحالات التي تحتاج إلى وجود الحرارة لتتغير

الإرضاء والبيانات ما الذي يحدث القاء عند ما يغير في يتحول إلى بخار ماء بعد دوران الكوكب

مول تقسماً في كفاءة في دوران الأرض مرة واحدة على عام مول في الشمس

في هذه الحركة الرسول في خالدة الولد المعينة على الحق ليقبيلوا النور في هذا طرقت عظام في
من الرسول عند ما في ٦٣ عام هذه الصفات عند زمان خلق هذا القرآن الكريم في الاوقات
من في الخلافة بعد وفاة الرسول في ابي بن الهادي عند التكبيرات في الحركة الاولى في
ولاء العبد في تكبر ان ، مقابل كلمة ابا في مع في اي عام غزوة بدر في ٢ هـ
تحت يذو القعدة في امساك بنت ابي بن ابي بن هجرانة اعيان الموتى في عتيد عليه السلام
سورة مثل القرآن الكريم تعرف (تروى القرآن) في الركن آخر غزوة شاركة لبطار المسلمين
تبولت معجزة محمد في القرآن معجزة عيسى في اعيان الهوى معجزة موسى
العهود والهدى البينما في وظيفة جبريل في موكل بالروح والنفية مالك في الموكل بالبار
مخلصة لروحان في الموكل بالجنة ~~والله اعلم~~

لقد ولد في البيت المذكور في يوم الاثنين من شهر ربيع الأول سنة ١٢٨٧ هـ الموافق لـ ١٨٦٦ م

مساكنها في داره في القلعة الواقعة في وسط المدينة في داره في القلعة الواقعة في وسط المدينة

في داره في القلعة الواقعة في وسط المدينة في داره في القلعة الواقعة في وسط المدينة

في داره في القلعة الواقعة في وسط المدينة في داره في القلعة الواقعة في وسط المدينة

في داره في القلعة الواقعة في وسط المدينة في داره في القلعة الواقعة في وسط المدينة

في داره في القلعة الواقعة في وسط المدينة في داره في القلعة الواقعة في وسط المدينة

في داره في القلعة الواقعة في وسط المدينة في داره في القلعة الواقعة في وسط المدينة

في داره في القلعة الواقعة في وسط المدينة في داره في القلعة الواقعة في وسط المدينة

في داره في القلعة الواقعة في وسط المدينة في داره في القلعة الواقعة في وسط المدينة

في داره في القلعة الواقعة في وسط المدينة في داره في القلعة الواقعة في وسط المدينة

في داره في القلعة الواقعة في وسط المدينة في داره في القلعة الواقعة في وسط المدينة

في داره في القلعة الواقعة في وسط المدينة في داره في القلعة الواقعة في وسط المدينة

في داره في القلعة الواقعة في وسط المدينة في داره في القلعة الواقعة في وسط المدينة

6. اي من هذه الخمسة تحقق المقارنة التالية : (ل ل ن ل
 ن ل ل) بالنسبة ل 2242422 هي مثل (ن ن ل ن ل ن ن
) بالنسبة ل :

4424244	4424242	4422424	2424224	2242442
---------	---------	---------	---------	---------

7. ما هو الشكل الذي يجب ان يتلو في المجموعة التالية ؟

